

A vibrant, cartoon-style illustration of a beach scene. In the foreground, there's a sandy beach with some green bushes on the left and a striped beach umbrella on the right. The background shows a blue ocean, a blue sky with stylized clouds, and a palm tree. A large, white, fluffy cloud with a dashed outline is centered in the image. Inside the cloud, the Vietnamese words 'KHỞI ĐỘNG' are written in large, colorful, rounded letters. The word 'KHỞI' is on the top line, and 'ĐỘNG' is on the bottom line. The letters are colored as follows: 'K' is yellow, 'H' is green, 'Ở' is red, 'Đ' is orange, 'O' is yellow, 'N' is blue, and 'G' is cyan.

KHỞI
ĐỘNG

**Hãy kể tên một số đảo,
quần đảo ở Việt Nam mà
em biết.**





Đảo Cát Bà (Hải Phòng)




Đảo Lý Sơn (Quảng Ngãi)



ĐẢO HOÀNG SA
QUẦN ĐẢO HOÀNG SA - VIỆT NAM



Quần đảo Trường Sa (Khánh Hòa)



Thứ năm ngày 3 tháng 10 năm 2024

LỊCH SỬ & ĐỊA LÍ

Bài 3:

biển đảo việt nam



Yêu cầu cần đạt



Xác định được vị trí địa lí của vùng biển, một số đảo, quần đảo lớn của Việt Nam trên bản đồ hoặc lược đồ.



Trình bày được công cuộc bảo vệ chủ quyền, các quyền và lợi ích hợp pháp của Việt Nam ở Biển Đông trong lịch sử, có sử dụng một số tư liệu, tranh ảnh, câu chuyện liên quan (đội Hoàng Sa, lễ Khao lề thế lính Hoàng Sa,...).



Sưu tầm, đọc và kể lại được một số câu chuyện, bài thơ về biển, đảo Việt Nam.

KHÁM

PHÁ



Hoạt động 1

Tìm hiểu về vị trí địa lý của vùng biển, một số quần đảo và đảo



Đọc thông tin và quan sát hình 3 (trang 6), em hãy xác định vị trí địa lí của vùng , quần đảo lớn của Việt Nam.



Trò chơi: Ai nhanh, ai đúng

Gắn thẻ chữ lên đúng vị trí của các đảo, quần đảo trên lược đồ Việt Nam.





[]

[]

[]

[]

[]

[]

[]

[]

[]



KẾT LUẬN

Vùng biển Việt Nam là một phần của Biển Đông. Đường bờ biển của Việt Nam kéo dài từ Móng Cái (tỉnh Quảng Ninh) đến mũi Cà Mau (tỉnh Cà Mau). Trong vùng biển có hàng nghìn đảo, nhiều đảo tập hợp thành quần đảo, trong đó lớn nhất là quần đảo Hoàng Sa và quần đảo Trường Sa.





▲ **Hình 2.** Một phần Vịnh Hạ Long (Quảng Ninh)



▲ **Hình 3.** Đảo Lý Sơn (Quảng Ngãi)



▲ **Hình 4.** Một góc đảo Phú Quốc (Kiên Giang)

Em có biết

Vịnh Hạ Long có gần 2.000 hòn đảo lớn, nhỏ với nhiều đảo đá, hang động và bãi tắm đẹp. Vịnh Hạ Long được UNESCO ghi danh là Di sản thiên nhiên thế giới.



HOẠT ĐỘNG 2:

Tìm hiểu về công cuộc bảo vệ chủ quyền, các quyền và lợi ích hợp pháp của Việt Nam ở Biển Đông





Nhóm 1: Tìm hiểu nét chính về công cuộc bảo vệ chủ quyền, các quyền và lợi ích hợp pháp của Việt Nam ở Biển Đông thời các chúa Nguyễn.



Nhóm 2: Tìm hiểu nét chính về công cuộc bảo vệ chủ quyền, các quyền và lợi ích hợp pháp của Việt Nam ở Biển Đông dưới Triều Nguyễn.



Nhóm 3: Tìm hiểu nét chính về công cuộc bảo vệ chủ quyền, các quyền và lợi ích hợp pháp của Việt Nam ở Biển Đông thời Pháp thuộc.



Nhóm 4: Tìm hiểu nét chính về công cuộc bảo vệ chủ quyền, các quyền và lợi ích hợp pháp của Việt Nam ở Biển Đông thời kì Nhà nước Cộng hoà xã hội chủ nghĩa Việt Nam.

KỸ THUẬT MẢNH GIẾP



Trình bày những nét chính về công cuộc bảo vệ chủ quyền, các quyền và lợi ích hợp pháp của Việt Nam ở Biển Đông.

**Thời chúa
Nguyễn từ
thế kỉ XVII**

Lập đội Hoàng Sa

**Sau đó là đội Bắc
Hải**

**Mục đích:
thu lượm sản vật,
đánh bắt hải sản**

**Triều
Nguyễn**

Xác lập chủ quyền bằng cách cắm cờ, dựng cột mốc,... trên quần đảo Hoàng Sa

Cho vẽ Đại Nam nhất thống toàn đồ, trong đó thể hiện rõ quần đảo Hoàng Sa và quần đảo Trường Sa là của Việt Nam.

Thời Pháp thuộc

Chính quyền Pháp đại diện cho Việt Nam để thực hiện việc bảo vệ chủ quyền, các quyền và lợi ích hợp pháp của Việt Nam ở Biển Đông

Người Pháp cho dựng bia chủ quyền, lập đơn vị hành chính ở quần đảo Hoàng Sa và quần đảo Trường Sa,...

**Nhà nước
Cộng hoà xã
hội chủ nghĩa
Việt Nam**

Thành lập các đơn vị hành chính ở quần đảo Trường Sa và quần đảo Hoàng Sa

Ban hành các văn bản pháp luật khẳng định chủ quyền biển, đảo

Tham gia Công ước của Liên hợp quốc về Luật Biển năm 1982

Thực hiện phát triển kinh tế biển gắn với tăng cường tiềm lực quốc phòng, góp phần bảo vệ biển, đảo quê hương.



*Tượng đài "Hùng binh
Hoàng Sa"*



Mặt sau của tượng đài



Thuyền buồm của đội Hoàng Sa thế kỷ 17-18



Bản vẽ kỹ thuật thuyền buồm và một số vật dụng dùng để đi Hoàng Sa.



Thuyền câu (mô phỏng) do binh phu của Đội Hoàng Sa để khai thác, quản lý đảo Hoàng Sa thế kỷ 17



Thẻ tre, bài gỗ, linh vị, chiếu cói và các hiện vật của Đội Hoàng Sa



Chia sẻ điều em biết về đội Hoàng Sa hoặc kể lại câu chuyện về đội Hoàng Sa.

Nêu việc làm của Triều Nguyễn trong việc thực thi chủ quyền đối với quần đảo Trường Sa thông qua đoạn tư liệu trong SGK.



Câu chuyện
Lịch sử

ĐỘI HOÀNG SA

Chúa Nguyễn Phúc Nguyên đã lập ra đội Hoàng Sa, gồm 70 người từ xã An Vĩnh (Lý Sơn, Quảng Ngãi). Đội có nhiệm vụ ra quần đảo Hoàng Sa để thu lượm, khai thác sản vật...

Hằng năm, cứ từ tháng 3 đến tháng 8, họ gióng buồm vượt biển ra quần đảo Hoàng Sa, mang lương thực đủ ăn trong sáu tháng, đi ba ngày ba đêm thì đến. Trong điều kiện thiên nhiên khắc nghiệt, chỉ với những chiếc thuyền câu nhỏ bé và các vật dụng thô sơ nên nhiều người đã không thể trở về.

Để cầu bình an cho những người đi làm nhiệm vụ, đồng thời tri ân những người có công trong việc bảo vệ biển, đảo quê hương, người dân ở đảo Lý Sơn đã tổ chức lễ Khao lề thế lính Hoàng Sa.

(Theo Nguyễn Hữu Tâm, *Những mẫu chuyện bảo vệ biên cương trong lịch sử*, NXB Chính trị quốc gia, 2016)



▲ Hình 5. Tem về đội Hoàng Sa (phát hành năm 1988)

TƯ LIỆU. Năm 1836, vua Minh Mạng cử Phạm Hữu Nhật chỉ huy đội binh thuyền ra quần đảo Hoàng Sa, mang theo 10 cái bài gỗ (cột mốc). Mặt bài khắc những chữ: "Minh Mệnh thứ 17, năm Bính Thân... Phạm Hữu Nhật vâng mệnh đi Hoàng Sa trông nom đo đạc đến đây lưu dấu để ghi nhớ".

(Theo Quốc sử quán Triều Nguyễn, *Đại Nam thực lục*, tập bốn, NXB Giáo dục, 2007, tr. 867)

CHIA SẺ TRƯỚC LỚP



Tai nghe






Mắt dõi

VĂN DỤNG



TRÒ CHƠI: TRÍ NHỚ SIÊU ĐẲNG

-  Học sinh đọc và quan sát SGK vòng 3 phút để ghi nhớ thông tin.
-  Học sinh gấp sách, dùng bảng con và phấn hoặc bút viết để tham gia trò chơi.
-  Giáo viên đọc to câu hỏi, các học sinh ghi nhanh kết quả lên bảng và giơ đáp án.



TRÒ CHƠI: TRÍ NHỚ SIÊU ĐẲNG




Đường bờ biển của Việt Nam kéo dài từ đâu đến đâu?

Từ Móng Cái (tỉnh Quảng Ninh) đến mũi Cà Mau (tỉnh Cà Mau).



TRÒ CHƠI: TRÍ NHỚ SIÊU ĐẲNG




Kể tên 2 quần đảo lớn nhất Việt Nam?

Quần đảo Trường
Sa và Quần đảo
Hoàng Sa



TRÒ CHƠI: TRÍ NHỚ SIÊU ĐẲNG



Vùng biển nước ta là một bộ phận của biển nào?

Vùng biển nước ta là
một bộ phận của
Biển Đông.



D Ă N D Ì



GV ĐIỀN VÀO ĐÂY



GV ĐIỀN VÀO ĐÂY



GV ĐIỀN VÀO ĐÂY



GV ĐIỀN VÀO ĐÂY



Tạm biệt
và hẹn gặp lại